



2023-2024-cü il

QƏBUL
İMTAHANI

5

SİNİF

B

VARIANT

Ad, Soyad

Ata adı

İş nömrəsi

AZƏRBAYCAN DİLİ

1-5 saylı tapşırıqları mətnə əsasən cavablandırın.

1. Bir odunçunun zəif və gücsüz eşşəyi vardı. Odunçu yoxsul olduğu üçün öz qarını güclə doyururdu. Eşşək də günü-gündən arıqlayır, kifayət qədər bəslənə bilmirdi. Buna baxmayaraq, hər gün meşədən şələ-şələ odun daşıyır, axşamədək ac-susuz işləyirdi.

2. Bir gün odunçu eşşəyi ilə yolda gedərkən padşahın ilxıcısı ilə qarşılaşır. İlxiçisi odunçuya deyir:

-Sənin bu eşşəyinin halı nədir? Ver onu ilxiyaya qoşum, bəlkə, bir az ətə-cana gələr. Bir müddət qalsın, sonra götürərsən.

Odunçu fikri bəyəndi və dərhal razılaşdı.

3. İlxiçisi eşşəyi padşahın tövləsinə aparır. Eşşək həyatında belə geniş və işıqlı tövlə görməmişdi. Buradakı təmiz və baxımlı atları görəndə eşşək bir onlara, bir də özünə baxıb deyinməyə başlayır:

- Bu atlar heç yük daşımır, yeyib-içib yatırlar. Günlərini kefiçində keçirirlər. Bu, ədalətsizlik deyilmi?

4. Ertəsi gün tövlədə bir təşviş və həyəcan başlayır. Atları müharibəyə hazırlayırdılar. Eşşək isə bundan bixəbər idi. Müharibənin nə olduğunu bilmirdi. Atlar tövlədən çıxınca eşşək tövlədə yalnız qaldı.

5. Müharibə bitincə atlar geri - tövləyə qayıtdılar və eşşək gördüklərinə inanmadı. Atlar bədənələrinə batmış oxlarla tanınmaz hala düşmüşdülər. Eşşək indi müharibənin nə olduğunu anlamışdı. O öz əvvəlki halına, yaşayışına sonsuz şükür edir və deyir:

-Mən öz sahibimlə hər bir çətinliyə razıyam, yetər ki, müharibə olmasın. Mənim bəyənmədiyim həyat, bəlkə də, bir çoxlarının arzudur.

1. Mətnədə nöqtələrin yerinə uyğun olan cümləni müəyyən edin.

- A) Gəl odunçuluqdan əl çək.
B) Görünür, çoxlu südü olur.
C) Padşah sənin eşşəyini istəyir.
D) Deyəsən, heç yedirib-içirmirsən.
E) Gəl mənim baxdığım atlardan biri ilə dəyişək.

2. Mətnin ideyası ilə səsleşən fikri seçin.

- A) Dəvə nə qədər arıq olsa da, dərisi bir eşşəyə yüküdür.
B) Yaxşı ata bir qamçı, yaman ata min qamçı.
C) Azacıq aşım, ağrımaz başım.
D) Nə əkərsən, onu da biçərsən.
E) At öləndə itlərin bayramıdır.

3. Mətnədə çərçivədə verilmiş ifadəni hansı sözlə əvəz etmək olar?

- A) qatım B) aparım C) götürüm
D) bağlayım E) əmanət edim

4. Mətnlə bağlı verilmiş fikirlərdən **yanlış** olanları seçin.

- 1- Eşşək zəif və gücsüz olduğundan yük daşıya bilmirdi.
2- Padşahın tövləsi geniş və işıqlı idi.
3- Eşşək heç bir halda əvvəlki həyatını arzulamırdı.
4- Müharibə başlayanda tövlədə at qalmamışdı.
5- Odunçu eşşəyindən narazı idi.
A) 3,4,5 B) 4,5 C) 2,4 D) 1,2,3 E) 1,3,5

5. Mətnin hansı hissəsində altından xətt çəkilmiş söz məcazi mənada işlənmişdir?
A) 3 B) 5 C) 2 D) 1 E) 4

6. Eyniköklü sözləri göstərin.

- A) daşsız, daşdakı, daşqın
B) bölgə, bölük, bölüşmək
C) çökək, çökəklik, çökdü
D) düzgün, düzlük, düzəlmək
E) gülüş, gülümsəmək, gülən

7. Verilmiş nümunədəki nitq hissələri ardıcılıqla hansı cümlənin tərkibində verilmişdir?

Cavanlar işə gədirdilər.

- A) Dünənkilər yarışa hazırlayırdılar.
B) Bizimkilər evə tələsirdilər.
C) Uşaqlar məktəbə gədirdilər.
D) Kəndlilər həyəətə topladırlar.
E) Müəllimlər iclasda fəal idilər.

8. Verilmiş sözlərdən neçəsi “?” işarəsinin yerinə yazıla **bilməz**?



bucaq, akvarel, fiksaj, enerji, vegetasiya, zərf, surət

- A) 3 B) 4 C) 1 D) 5 E) 2

9. Yalnız sadə feillərdən ibarət cərgəni müəyyən edin.

- A) bəsləmək, bağışlamaq, əzizləmək
B) saxlamaq, danlamaq, gizləmək
C) yoxlamaq, başlamaq, səsələmək
D) izləmək, söyləmək, gözləmək
E) yırgalamaq, sulamaq, tuşlamaq

10. Frazoloji birləşmələri müvafiq sinonimlərlə birləşdirərək uyğunluğu bərpa edin.

- Δ yaxasını kənarə çəkmək
× ağzına çullu dovşan yerləşməmək
◇ ürəyinə xal düşmək
● aralarından su keçməmək

a. Fazil azyaşlıni hər gün məktəbə aparmaq məsuliyyətini öhdəsinə götürmədi.

b. Qıraqda dayanan qocadan gözümüz su içmirdi.

c. Hər zaman bir-birinə can deyib, can eşidin.

d. Qalib komandanın üzvləri digər uşaqların yanında mənəm-mənəm deyirdilər.

- A) Δ-b, ×-a, ◇-c, ● -d B) Δ-a, ×-d, ◇- b, ● -c
C) Δ-a, ×-b, ◇-d, ● -c D) Δ-c, ×-b, ◇-a, ● -d
E) Δ-c, ×-d, ◇-b, ● -a

11. “Kolorit” sözünün ilk səsi hansı sözlərdə də işlənmişdir?

1. rıqqət 2. tezlik 3. sazaq 4. kargüzar
5. vulkan 6. şərqsünas 7. tədqiq
A) 1, 4, 5, 6 B) 2, 3, 4, 6 C) 1, 2, 4, 7
D) 2, 3, 5, 7 E) 1, 5, 6, 7

12. Yalnız şəkilçi artırıldığı üçün ahəng qanununa **tabe olmayan** neçə söz vardır?

armudlar, sadıqlıq, avtobuslar, qayğıkeş, vətəndaş, laməkan, bisavad, biganə

- A) 5 B) 6 C) 2 D) 4 E) 3

13. Cədvələ əsasən doğru olan nümunələri müəyyən edin.

<i>Hecalara bölünür, sətirdən sətərə keçirilir.</i>	<i>Hecalara bölünür, sətirdən sətərə keçirilmir.</i>
1. aşıq	3. ruzi
2. ianə	4. ehram
	5. igid

- A) 3,5 B) 1,2,4 C) 1,3,4 D) 2,3 E) 2,5

14. Bitişik yazılan mürəkkəb sözləri müəyyən edin.

1. boş * bikar 2. quş * qonmaz 3. abi * həyat
4. soy * qırımı 5. daş * tərəzi

- A) 3,4,5 B) 2,4 C) 2,4,5 D) 1,2 E) 1,3,5

15. Hansı cərgədəki bütün sözlər omonim sözlərdir və yalnız cingilti samitlərdən ibarətdir?

- A) göz, bulud, dolu B) ləpə, rəng, fəsil
C) gül, say, dan D) analıq, vergi, biz
E) qayın, dad, ağı

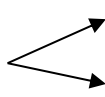
16. Tərkibinə görə təhlili  sxeminə uyğun **gəlməyən** sözləri müəyyən edin.

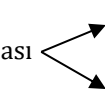
1. gəlmir 2. süzmə 3. qandır
4. izlə 5. bildir 6. səpin

- A) 1,5,6 B) 2,4,5 C) 1,4,5 D) 1,3,4 E) 2,3,6

17. Nümunədəki tünd-qara hərflərlə yazılmış söz əsasında doğru fikirləri müəyyən edin.

Fəzilətlərin hamısı bir-birini qısqanır; qısqançlıq isə müdhişdir. (F. Nitsşe)

Leksik mənası  1. çətin başa gələn, çətin həll edilən
2. dəhşətli, vahiməli, qorxunc

Qrammatik mənası  3. isim
4. sifət

- A) 2,3 B) 2,4 C) 1,2 D) 3,4 E) 1,3

18. Mücərrəd mənalı düzəltmə isimləri göstərin.

- A) çəmənlik, azlıq B) anlayış, duyğu
C) istək, yuxu D) təcicik, birlik
E) fikir, çoxluq

19. Nümunədə keçmiş zamanda işlənən neçə feil var?

*Torpaq quruyurdu, yağdı yağışlar,
Güllər üşüyürdü, günəş göründü.
Budaqlar qəmgindi, dilləndi quşlar,
Üfüq güləb rəngli dona büründü. (Ə. Kürçaylı)*

- A) 3 B) 4 C) 5 D) 6 E) 7

20. Biri **səhv** yazılmışdır:

- A) firəvan B) vermişel C) səbirli
D) şifoner E) barelyef

21. Uyğunluğu tapın.

	Söz	Sinonimləri	Doğru	Yanlış
A)	qorxaq	çəkingən, ağciyər		+
B)	abır	ağıl, həya		+
C)	naxoş	xəstə, nasaz		+
D)	qəm	qüssə, kədərli	+	
E)	tənə	danlamaq, məzəmmət	+	

22. "**Ağıl, idrak**" mənasını ifadə edən köhnəlmiş söz hansı nümunədə işlənmişdir?

- A) Onların da öz tanıqları vardır.
B) Baqqal səhər saatlarında daha çox işləyir.
C) Dərnək hər qarını açmağa qadirdir.
D) Şəhərdə bəziranlar çoxalıb.
E) Əgər suçunu boynuna alsın, bağışlayın.

23. Morfoloji üsulla yaranan azaltma dərəcəli sifət hansı cümlədə verilmişdir?

- A) Ana körpəcə qızını bağrına basdı.
B) O həm bəstəboy, həm də qarayanız idi.
C) Ala gözlüm, bəri bax!
D) Sarıtəhər köynəyi ona çox yaraşmışdı.
E) Çayımız kəmşirin, söhbətimiz şipşirin idi.

24. Nöqtələrin yerinə hansı söz əlavə olunsaydı, altından xətt çəkilmiş söz hökmən cəm şəkilçisi qəbul etməlidir?

*Ağ saçları dərd eləmə,
... at varsa. (R. Rövşən)*

- A) yamyaşıl B) xırdaca C) yaşıl-yaşıl
D) müalicəvi E) şəfalı

25. Hansı atalar sözündə antonim sözlərin yeri dəyişdirilib?

- A) Qocadan demək, cavandan əmək.
B) Yaxşı gündə düşmən gələr dost olar,
İgid odur, yaman gündə dayansın.
C) Qələm əyri yonulsa da, düz yazar.
D) Çox yemək adamı az yeməkdən də qoyar.
E) Acın toxdan xəbəri olmaz.

İNGİLİS DİLİ

26. Choose the correct variant with "There is/are" or "It is/They are".

- ... **any luggage in your car?**

- **Yes, ... 2 boxes of antique souvenirs. Please help me to carry them, ... heavy.**

- A) Are they / they are / there are
B) Are there / there are / they are
C) Is there / there are / they are
D) Is there / there are / there are
E) Is there / there is / they are

27. Translate the sentence into English.

Dünyanın müxtəlif ölkələrindən çoxlu idmançılar hər il beynəlxalq yarışlara qoşulurlar.

- A) Many sportsmans from different countries of the world invite international contests every year.
B) A lot of sportsmen from difficult countries of the world join national contests every year.
C) Many sportsmen from the world countries come to different international contests every year.
D) A lot of sportsmen from different countries of the world join international contests every year.
E) Much sportsman from different countries of the world joins international contests every year.

28. Choose the **incorrect** variant.

There are ... on the stage.

1. not any young composers
2. very few female sport coaches
3. no any cartoon characters
4. some beautiful Garabagh horses
5. no musical instrument
6. only little sunshine

A) 1,3,5 B) 2,3,4 C) 2,4,6 D) 3,5,6 E) 1,2,4

29. Choose the correct line of plural nouns.

- A) tomatos, cities, brushes
B) radishes, pillows, childs
C) skyscrapers, watches, videoes
D) cattle, chieves, oxes
E) leaves, roofs, mice

30. Choose the correct question words.

... do you fly a kite?

1. How often 2. How many 3. How long
4. Where 5. Whom 6. Which

A) 2,3,5 B) 4,5,6 C) 2,5,6 D) 1,3,4 E) 1,4,6

31. Choose the correct Pronouns to the underlined words.

- A) This is my and my cousin's chocolate. Where is your chocolate? - **Our; its**
B) That fair-skinned foreigner is looking at the old carpets of Azerbaijan in the museum. - **She; they**
C) You and your friends can find maths and literature books in our school library. - **You; them**
D) Mrs. Hajiyeva's husband is in the Aliyevs' garden now. - **His; theirs**
E) His father's doctors advise him to drink 4 glasses of water every day. - **Them; it**

32. Choose the correct translation.

- A) to discuss the useful device - faydalı cihazı təsvir etmək
B) to choose an intelligent leader - milli lider seçmək
C) to check the timetable of lessons - dərslərin cədvəlini yoxlamaq
D) to see off international inventors - beynəlxalq idmançıları yola salmaq
E) to borrow traditional costumes for the show - sərgi üçün milli kostyumlar borc almaq

33. Choose the correct Tag Question.

That foreign artist's a black car, ... ?

- A) has he B) does he C) isn't he
D) doesn't he E) wasn't he

34. Choose the correct Adverbs of Frequency.

Her grandson is an impolite person. He the queue at the market and kind to his neighbours.

- A) every day jumps / is never
B) usually jumps / often is
C) often jumps / is seldom
D) jumps always / is often
E) jumps often / rarely is

35. Choose the correct sentence with the noun in the Possessive Case.

- A) Amina is that actresses' relative.
B) The Karimov's old plane tree in their garden is very high.
C) They are speaking about yesterdays' mathematics lesson.
D) The woman's very helpful, and we love her.
E) Is her daughter's and husband's hair curly?

36. Choose the correct variant.

- A) Are your friend a fan of your favourite football team "Garabagh FC"?
B) Was famous drawings of that exhibition amazing?
C) Is your father's new cotton handkerchiefs soft?
D) Are high buildings of our city safe during the earthquakes?
E) Were those tourists' bag on the ground empty?

37. Choose the correct variant.

- A) 3 kilos of red apple
B) 2 piece of fresh juice
C) good piece of advice
D) a pair of vegetable soup
E) a big bottle of almond milk

38. Put a question to the underlined word.

My aunt's daughters always hang the coats on the hangers.

- A) Who my aunt's always hang the coats on the hangers?
B) Who does always hang the coats on the hangers?
C) Who do always hang the coats on the hangers?
D) Whose always hang the coats on the hangers?
E) Who always hangs the coats on the hangers?

39. Choose the correct Imperative sentences.

1. Aylin, please, shares your food.
 2. Ali, doesn't unfasten your seatbelt.
 3. Always be healthy, children.
 4. Boys, hanging these wet towels now.
 5. Telman, talk to your doctor, please.
- A) 2,5 B) 2,4 C) 3,5 D) 1,4 E) 1,3

40. Choose the correct articles.

- ... Mustafayevs' niece can play ... guitar, but her brother Tahir can play ... draughts well. He is the winner of ... first place at school competition, too.**
- A) The/the/the/the B) —/the/the/the
C) The/—/the/the D) —/—/—/—
E) The/the/—/the

41. Choose the correct variant.

- A) – Have water slides got stairs?
– Yes, they have.
- B) – Do this pair of jeans have small size?
– Yes, they do.
- C) – Has vegetable juice got a tasty flavour?
– Yes, they have.
- D) – Does shopping trolleys have four wheels?
– Yes, it does.
- E) – Do mountainous villages have got fresh air?
– Yes, they do.

42. Choose the correct Alternative question.

- A) It is dangerous or safe to use these devices?
B) Do housework or make dinner.
C) Do you hear me or them now?
D) They are peeling potatoes or cucumbers, aren't they?
E) Do they sell blankets or clothes? – Yes, they do.

43. Choose the correct sentence with the modal verb.

- A) – Can I my sandwich with my friend?
– Yes, you are.
- B) – Can I return these trousers? They are short for me.
- C) There isn't any salt in the meal. You can to add a little.
- D) – May be a little bread dangerous for the fish?
– No, it isn't.
- E) The knives on the table may are sharp. Don't take them.

44. Choose the correct forms of To Be.

- ... Nijat's cousins overweight two years ago?
- Yes, they ..., but they ... fit and slim now.**
- A) Are, are, are B) Were, were, are
C) Are, were, are D) Were, are, were
E) Was, were, were

45. Choose the sentence with the correct tense form.

- A) Do you want to sweep the floor at the moment?
B) – What are you doing? – I grate carrots for salad.
C) Do you do shopping alone today?
D) – Where is your son? – He has a rest.
E) Is your relative improve his English in summer?

46. Tell the time.

- **What time is it?**
– **18:50.**
- A) Its ten minutes to seven.
B) It's ten minutes to six.
C) It's a quarter past seven.
D) It's ten minutes to seven.
E) It's ten minutes past six.

47. Choose the correct tense form.

- A) They are preparing their lessons every day.
B) Are you believing me now?
C) Hush! The baby sleeps.
D) My little daughter coughs in her room at the moment.
E) Stop beating the drum. Our mother is talking on the phone.

48. Choose the correct variant with prepositions.

1. on June 9 2. at the second floor
3. arrive in home 4. in a queue
5. on summer morning 6. on Novruz
- A) 1,2,5 B) 2,4,6 C) 4,5,6 D) 1,2,3 E) 1,4,5

Read the text and answer the questions 49-50.

Cats are popular pets in the world. Some cats usually eat small animals, birds, and mice. Housecats eat wet or dry cat food from a store. Cats sleep 14 – 18 hours a day. Some cats are good at running and jumping, but they do not like water. They have sharp teeth and they like to bite. Cats can see at night, too. Their babies are kittens.

We have a kitten at home, too. Its name is Tom. Tom is only 8 months old. Every morning I give him water to drink and food to eat before I go to work. Sometimes at work I miss Tom because he is funny and cute. Tom has black hair and beautiful blue eyes. He is very quick and likes to play with his tail, run in the house, and fall asleep on my pillow. He understands some words. For example, when I say "Where is Tom?", he runs to me, looks at me and meows (miyoldayır). Tom has a sister, her name is Sunny and she lives with a friend of mine. I am happy Tom is in our house, and we love him very much.

49. Choose the correct sentence from the passage.

- A) Tom likes to play in the water.
B) Housecats never eat any food from a store.
C) Tom is not 1 year old.
D) I miss my cute cat at home.
E) Cats play 14-18 hours a day.

50. What is the passage about?

- A) Cats' food
B) A famous pet
C) A kitten Sunny
D) The animals on the farm
E) A cartoon "Tom and Jerry"

RİYAZIYYAT

51. Avtomobil hər 50 km yola 4,8 litr benzin işlədir. Yolun 25%-ni getdikdən sonra 150 km yolu qaldı. Benzinin 1 litri 0,9 manat olarsa, avtomobil bütün yola neçə manatlıq benzin işlədəcək?
- A) 25,92 man B) 31,63 man C) 8,64 man
D) 51,84 man E) 17,28 man

52. Çəndə 36 litr su var idi. Birinci gün çəndən $17\frac{7}{13}$ litr su, ikinci gün bundan $4\frac{11}{13}$ litr az su işləndi. Çəndə iki gündən sonra neçə litr su qaldı?
- A) $6\frac{12}{13}$ litr B) $4\frac{12}{13}$ litr C) $3\frac{2}{13}$ litr
D) $3\frac{11}{13}$ litr E) $5\frac{10}{13}$ litr

53. 3 ədəd verilmişdir. Birinci ədəd ikincinin $\frac{8}{13}$ hissəsinə, üçüncü ədəd birincinin $\frac{3}{4}$ hissəsinə bərabərdir. İkinci ədədlə üçüncünün fərqi 49 olarsa, ikinci ədədlə birincinin fərqi tapın.
- A) 7 B) 35 C) 36 D) 42 E) 91

54. Gəmi 5 saat axın ilə, 3 saat isə axına qarşı hərəkət edərək cəmi 140 km yol getmişdir. Gəminin öz sürəti 16,6 km/saatdır. Gəminin sürəti ilə çayın sürətinin fərqi tapın.
- A) 4 km/saat B) 8,5 km/saat
C) 7,2 km/saat D) 13 km/saat
E) 9,6 km/saat

55. *-un yerinə istənilən qiymət yazdıqda doğru olan yuvarlaqlaşdırmanı tapın:
- A) $1027,5^* \approx 1027,5$ B) $463,09^* \approx 463,1$
C) $7,999 \approx 8$ D) $234,78^* \approx 234,78$
E) $106,98^* \approx 106,99$

56. 3 manat ilkin ödəniş etdikdən sonra hər mahınını internetdən endirmək üçün 1 manat tələb olunur. Endirilən mahını sayı (x) ilə xərclənən pul (y) arasındakı asılılığa uyğun düstur hansı bənddə göstərilmişdir?
- A) $x=3+y$ B) $y=(x+1) \cdot 3$ C) $x=3y+1$
D) $y=3x+1$ E) $y=3+x$

57. Müştəri 5 kq meyvə aldı. Bu meyvənin $3\frac{1}{2}$ kq-ı alma, qalanı isə armud idi. 1 kq almanın qiyməti $2\frac{2}{5}$ manat, 1 kq armudun qiyməti isə $2\frac{1}{2}$ manatdır. Müştəri cəmi nə qədər pul ödədi?
- A) $15\frac{17}{25}$ man B) $33\frac{23}{25}$ man C) $15\frac{17}{20}$ man
- D) $12\frac{3}{20}$ man E) $23\frac{19}{30}$ man

58. Perimetri 12 sm olan düzbucaqlının tərəflərindən biri o birindən 3,6 sm böyükdür. Sahəsi bu düzbucaqlının sahəsinə bərabər olan kvadratın tərəfini tapın.
- A) 1,6 sm B) 2,4 sm C) 2,5 sm
- D) 1,9 sm E) 1,8 sm

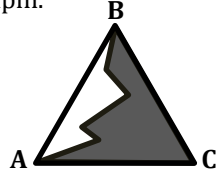
59. Kubun tam səthi yan səthindən 98 sm^2 çox olarsa, həcmi neçə litrdir?
- A) 3,49 litr B) 0,049 litr C) 49 litr
- D) 0,343 litr E) 343 litr

60. İki piyada eyni vaxtda qarşı-qarşıya hərəkətə başladı. Birinci piyada $0,46 \text{ km/saat}$, ikinci piyada $0,54 \text{ km/saat}$ sürətlə hərəkət edirdi. Görüşənə qədər ikinci piyada $4,32 \text{ km}$ yol getmişdir. Görüşənə qədər birinci piyada nə qədər yol getmişdir?
- A) 36,8 km B) 52 km C) 3,68 km
- D) 38,8 km E) 40,8 km

61. Kor bucaq iki daxili şüa ilə üç bucağa ayrılmışdır. Birinci və ikinci bucaqların dərəcə ölçüləri cəmi 70° , ikinci və üçüncü bucaqların dərəcə ölçüləri cəmi 145° , birinci və üçüncü bucaqların dərəcə ölçüləri cəmi 125° olarsa, kor bucağın dərəcə ölçüsünü tapın.
- A) 153° B) 170° C) 137° D) 160° E) 108°

62. Bərabəryanlı üçbucağın oturacağa bitişik bucağı tərə bucağından 12° kiçikdir. Tərə bucağının dərəcəsi düz bucaqdan nə qədər azdır?
- A) 34° B) 12° C) 32° D) 24° E) 22°

63. ABC bərabəryanlı üçbucaqdır ($AB=BC$). Rənglənmiş hissənin perimetri 15,4 sm, rənglənməmiş hissənin perimetri 9,8 sm olarsa, üçbucağın perimetrinin ala biləcəyi ən kiçik natural qiyməti tapın.



- A) 11 sm
B) 12 sm
C) 13 sm
D) 18 sm
E) 16 sm

64. Tənliyi həll edin və kökünü tapın:
 $((0,16x+34) \cdot 0,1-4,52):1,6+3,9):1,2=3,5$

- A) 4 B) 23 C) 35 D) 40 E) 100

65. $(8m+64):(4m)$ ədədi natural ədəddir. m-in ala biləcəyi natural qiymətlərin cəmini tapın.

- A) 7 B) 15 C) 24 D) 25 E) 31

66. Kimin fikri həmişə doğrudur?

Asif: Hər iki toplanan $\frac{1}{2}$ -dən kiçikdirsə, cəm 1-dən kiçik olacaq

Kamal: Azalan $1\frac{1}{2}$ -dən böyük, çıxılan isə 1-dən kiçikdirsə, fərq $\frac{1}{2}$ -dən kiçik olacaq

Sevda: Toplananlar $\frac{1}{4}$ -dən böyükdürsə, cəm 1-dən böyük olacaq.

- A) hər üçü
C) Sevda və Asif
E) yalnız Asif

- B) Asif və Kamal
D) Kamal və Sevda

67. Düzgün yazılmış rum rəqəmlərini onluq say sistemində yazın və cəmini tapın.

LIIIX, XVI, XCV, DCL, CCM, CCCC, DLIX, LIII

- A) 1374 B) 1909 C) 1373 D) 1619 E) 222

68. Kiloqramla ifadə edin:

$0,2536 \text{ t} + 3,4 \text{ s} + 5,26 \text{ kq} + 12308 \text{ q}$

- A) 175,347 kq B) 415,3 kq C) 187,7 kq
D) 611,168 kq E) 621,168 kq

69. Əlverişli üsulla hesablayın: $(190 \cdot 68 \cdot 36) : (5 \cdot 17 \cdot 6 \cdot 38)$
A) 8 B) 15 C) 17 D) 24 E) 32

70. Təkliflərdən neçəsi doğrudur?

- 1) Natural ədədin onluqlar mərtəbəsindəki rəqəmi 3 vahid artırılıb, təklilər mərtəbəsindəki rəqəmi 2 vahid azaltsaq, ədəd dəyişməz.
 - 2) Üçrəqəmli ədədin sağına 5 yazsaq ədəd 10 dəfə və 5 vahid artar.
 - 3) 38086548 ədədində 8 rəqəminin mərtəbə vahidlərinin cəmi 8080008-ə bərabərdir.
 - 4) 180495627 ədədində təklilər sinfindəki vahidlərin sayı minliklər sinfindəki vahidlərin sayından 2 vahid çoxdur.
 - 5) 8621 ədədində 86 yüzlik var.
- A) 3 B) 5 C) 2 D) 1 E) 4

71. Təkliflərdən neçəsi doğrudur?

- 1) Düz xətt üzərində 7 nöqtə qeyd olunubsa, 14 parça alınar.
 - 2) Şüa üzərində başlanğıc nöqtədən fərqli 8 nöqtə qeyd olunubsa, 28 parça alınar.
 - 3) Parçanın daxilində 8 nöqtə qeyd olunubsa, 28 parça alınar.
 - 4) Bir düz xətt üzərində yerləşən A, B, C nöqtələri üçün $AB=19,8$ sm, $BC=25,6$ sm, $AC=35,4$ sm olarsa, A nöqtəsi B və C nöqtələri arasında yerləşir.
 - 5) 5 düz xətt bir nöqtədə kəsişdikdə, 10 şüa əmələ gəlir.
- A) 4 B) 3 C) 5 D) 1 E) 2

72. Birinci gün dəyirmanı gətirilən buğdanın 20%-i, ikinci gün qalan buğdanın 60%-i üyüdüldü. İki gündən sonra dəyirmanı qalan buğda ilk iki gündə üyüdülməmiş buğdadan 180 kq az oldu. Dəyirmanı cəmi neçə sentner buğda gətirilmişdi?

73. Məktəbi yarışlarda təmsil edəcək şagirdlərin sayını 14 nəfər azaltsaq, onların sayı 28 və 31 arasında, 16 nəfər azaltsaq 27 və 30 arasında dəyişir. Əvvəlcədən yarışlarda neçə nəfərin iştirakı nəzərdə tutulmuşdur?

74. Rəngsaz hündürlüyü 2,8 metr olan düzbucaqlı paralelepiped formalı otağın divarlarını rəngləməlidir. Bu otağın eni 4 m, uzunluğu isə bundan 25% çoxdur. Otağın pəncərəsinin sahəsi $2,25$ m², qapının sahəsi isə 2 m²-dir. 1 m² sahəni rəngləmək üçün 200 ml boya istifadə olunursa, ustaya neçə litr boya lazım olacaq?

Qəbul İmtahanı - 2024

75. Uyğunluğu müəyyən edin.

1. Birinin sahəsi 5,29 ar olan 5 eyni kvadratı yanaşı qoyub düzbucaqlı düzəldilər.
2. Düzbucaqlının eni uzunluğunun $\frac{7}{13}$ -dən 1,5 m qısadır. Düzbucaqlının perimetri 69 m-dir.
3. (düzbucaqlının eni və uzunluğu m ilə verilmişdir)

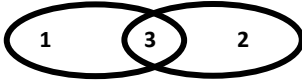
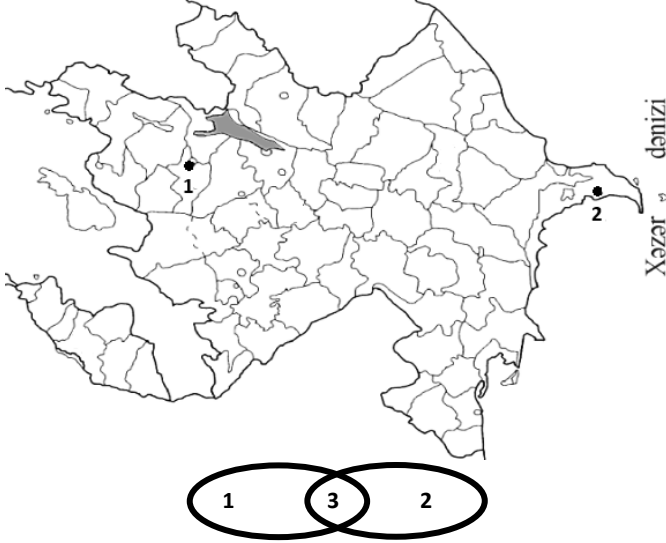
$$\begin{array}{c} 3,4x + 14 \\ \boxed{} \\ 1,8x + 4,5 \end{array}$$

6,2x

- a) düzbucaqlının uzunluğu enindən 9,2 m çoxdur
- b) düzbucaqlının uzunluğu enindən 12,3 m çoxdur
- c) düzbucaqlının uzunluğu enindən 16 m çoxdur
- d) düzbucaqlının uzunluğu enindən 17,5 m çoxdur
- e) düzbucaqlının uzunluğu enindən 92 m çoxdur

TARİX

76. Xəritədə işarələnmiş ərazilərin XX əsr tarixinə aid xüsusiyyətlərinin Eyer - Venn diaqramına əsasən uyğunluğunu müəyyən edin:



- a. Paytaxt şəhər olması
 b. ilk Respublikamızın parlamentinin fəaliyyət göstərməsi
 c. 1920-ci ildə bolşeviklər tərəfindən işğal edilməsi
 d. Dünya Azərbaycanlılarının birinci qurultayının keçirilməsi
 e. Xalq Cümhuriyyətinin ilk paytaxtı olması
- A) 1e, 2a, 3b B) 1e, 2bd, 3ac C) 1e, 2a, 3bc
 D) 1be, 2cd, 3a E) 1e, 2d, 3bc

77. Cədvələ əsasən doğru cavabı müəyyən edin.

Şimali Azərbaycan çar Rusiyasının hakimiyyəti altında	19-cu yüillik	20-ci yüillik
	1	
		2

- a. H.Z. Tağıyevin vəsəiti hesabına Bakıda qızlar məktəbinin açılması
 b. Erməni-daşnak qüvvələrinin Qarabağda Azərbaycan dövlətinə qarşı qiyam qaldırması
 c. Qəzalarda ibtidai məktəblərin fəaliyyətə başlaması
 d. Azərbaycanın ilk operasının səhnələşdirilməsi
- A) 1c, 2bd B) 1d, 2ab C) 1ac, 2bd
 D) 1c, 2ad E) 1bc, 2a

78. Azərbaycan Respublikasının Prezidenti İlham Əliyevin hakimiyyət dövrünə aid deyil:

- A) Tərtər cəbhəsində Azərbaycan Ordusunun uğurlu hərbi əməliyyatlar keçirməsi
 B) Ermənistan üzərinə hücumla keçən Azərbaycan Ordusunun Lələtəpə yüksəkliyi və Cəfər Mərcanlı azad etməsi
 C) Azərbaycan Ordusunun Ermənistanın paytaxtını ölkənin cənubu və Qarabağla birləşdirən əsas magistral yolun mühüm bir hissəsini nəzarət altına alması
 D) Azərbaycan torpaqlarında qondarma erməni dövləti yaradılmasına qarşı mübarizə aparılması
 E) erməni işğalı nəticəsində Qarabağdakı torpaqlardan ayrılan əhalinin öz doğma yurduna dönməsi

79. 18-ci yüzillikdə Səfəvi dövlətində əhalinin vəziyyətinin ağır olmasının səbəblərindəndir:
 A) Sultan Süleymanın Şərqi yürüşü nəticəsində zəngin sərvətləri olan ərazilərin itirilməsi
 B) Nadir şahın apardığı müharibələrin iqtisadiyyatı zəiflətməsi
 C) kiçik müstəqil dövlətlərə parçalanması
 D) ölkə ərazisinin işğal altında olması və vergilərin artırılması
 E) ərazisinin mahallara və bəylərbəyiliklərə bölünməsi

80. • 18-ci yüzilliyin ortalarında Kür çayından şimaldakı ərazilərdə meydana gəlmişdi
 • gürcü çarını məğlubiyətə uğratmışdı
 • Azərbaycan torpaqlarını birləşdirmək üçün Osmanlı dövləti ilə danışıqlara başlamışdı
- Yuxarıda verilən fikirlərin aid olduğu xanlığımızla bağlıdır:
 A) 19-cu yüzilliyin ikinci yarısında müstəqilliyini saxlaması
 B) "Gələsən-görəsən" qalasının inşa edilməsi
 C) Naxçıvan xanlığı ilə həmsərhəd olması
 D) Əleyhinə bəzi xanlıqların ittifaq qurması
 E) müdafiə məqsədilə Bayat qalasının inşa edilməsi

81. Uyğunluğu müəyyən edin.

1. Osmanlı dövləti ilə Qacarlar dövlətinə aid oxşarlıq
 2. Osmanlı dövləti ilə Şirvanşahlar dövlətinə aid oxşarlıq
- a. Rusiyaya qarşı müharibə aparması
 b. Səfəvilərlə müharibə aparması
 c. 18-ci yüzillikdə yaranması
 d. 19-cu yüzillikdə süquta uğraması
- A) 1ad, 2c B) 1d, 2b C) 1a, 2bc
 D) 1a, 2b E) 1ab, 2c

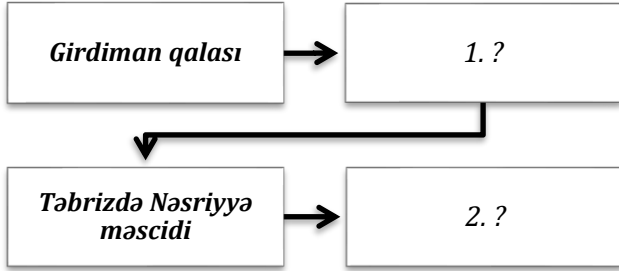
82. Azərbaycan tarixinin 20-ci yüzilliyin 20-ci və 30-cu illəri üçün oxşarlıq hesab edilə bilər:

- A) Sovet işğalına qarşı baş vermiş silahlı üsyanların qalib gəlməsi
 B) ziyalılarımızın sovet hökuməti tərəfindən təqiblərə məruz qalması
 C) ölkədə müstəqil xarici siyasət yürüdükdən milli hökumətlərin mövcud olması
 D) Nəriman Nərimanovun Sovet Azərbaycanına rəhbərlik etməsi
 E) Osmanlı dövləti ilə müttəfiqlik münasibətlərinin saxlanması

83. Azərbaycanın 1918-ci il tarixinə aid deyil:

- A) bolşeviklərin özlərinin hakimiyyət orqanına sahib olması
 B) müsəlman əsgər və zabitlərin Bakıda şəhər hökuməti tərəfindən tərki-silah edilməsi
 C) müsəlman xeyriyyə cəmiyyətinin fəaliyyət göstərməsi
 D) rusların Bakıda, Qubada, Şamaxıda və digər şəhərlərdə azərbaycanlılara qarşı soyqırımı törətməsi
 E) Azərbaycan (türk) dilinin dövlət dili səviyyəsinə qaldırılması

84. Xronoloji ardıcılığı nəzərə almaqla sxemə uyğun gələn memarlıq abidələrini müəyyən edin.



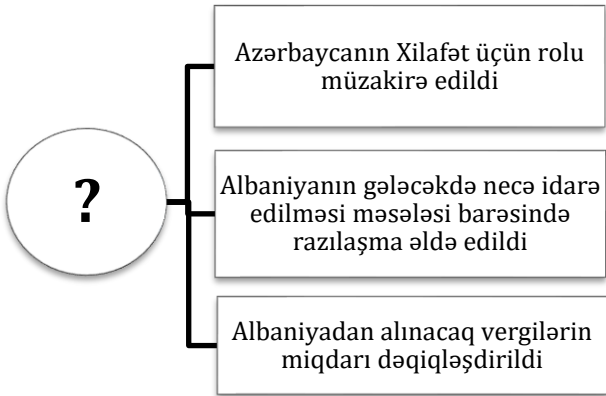
- A) 1.Yusif ibn Küseyir türbəsi; 2.Bayat qalası
B) 1.Qız qalası; 2.Şəkidə Kiş məbədi
C) 1.Şəki xan sarayı; 2.Həşt-behişt sarayı
D) 1.Xudafərin körpüsü; 2.Mömünə xatun türbəsi
E) 1.Şeyx Səfi məqbərəsi; 2.Gəncə qala qapıları

85. Cədvələ əsasən uyğunluğu müəyyən edin.

Dövrələr	Yeni yaranmış təsərrüfat sahələri	
Orta Daş	1	
Tunc		2

- a. bostançılıq
d. maldarlıq
B) 1d; 2b
E) 1bd; 2ae
- b.əkinçilik
e. bağçılıq
C) 1ae; 2bd
- c. ovçuluq

86. Sxemi tamamlayan cavabı müəyyən edin.

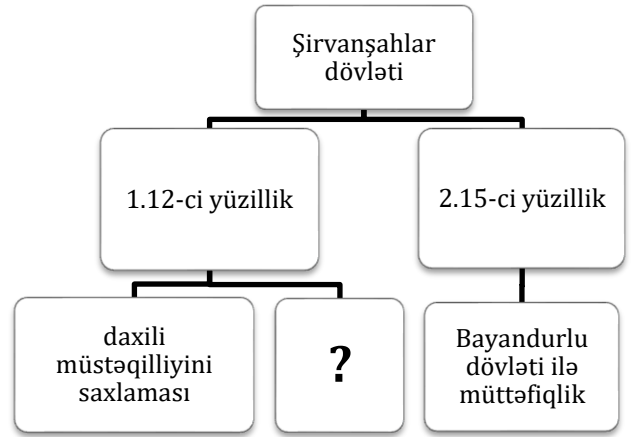


- A) Şam şəhərində Sasani-ərəb müharibələri ərəfəsində
B) 7-ci yüzilliyin 60-cı illərində xəlifənin Albaniyada apardığı danışıqlarda
C) Alban hökmdarının Ərəb xəlifəsi ilə görüşü zamanı
D) 3-cü yüzillikdə Albaniya Sasani asılılığını qəbul edən zaman
E) 7-ci yüzillikdə Cavanşirin Xəzər xaqanlığı ilə sülh danışıqlarında

87. İkinci Dünya müharibəsi illərində Azərbaycanda:

1. Xüsusi hərbi dəstələr təşkil edilmişdir
2. Həzi Aslanov Stalinqrad vuruşmasında misilsiz igidliklər göstərmişdi
3. Əhmədiyyə Cəbrayilova Sovet İttifaqı Qəhrəmanı adı verilmişdir
4. SSRİ ordusu üçün döyüş sursatı hazırlanırdı
A) 1,3 B) 1,2 C) 2,4 D) 1,4 E) 3,4

88. Sxemə əsasən doğru cavabı müəyyən edin.



- A) şimaldan gələn hücumların qarşısını almaq üçün Qafqaz dağları ilə Xəzər dənizi arasında Dərbənd qala divarlarının inşasının başlanması
B) Xilafətin zəifləməsi nəticəsində Azərbaycanın şimal-şərq ərazilərində meydana gəlməsi
C) paytaxtının Bakı şəhərindən köçürülməsi
D) Nizami Gəncəvi və Məhsəti Gəncəvi kimi şairlərin yetişməsi
E) təbii fəlakətlərin nəticəsinə görə dövlətin tədbir alması

89. Orta əsrlərdə ərazisində:

- miniatür rəssamlıq inkişaf etmişdi
 - Həşt-behişt sarayı inşa edilmişdi
- Verilənlərin aid olduğu şəhəri müəyyən edin.
A) Şamaxı B) Təbriz C) Bərdə
D) Marağa E) Ərdəbil

90. Azərbaycanın Orta əsrlər tarixinə aiddir:

1. Orduda xidmət edənlərə hökmdar tərəfindən torpaq bağışlanması
2. Şirvanın xam ipək istehsal mərkəzlərindən olması
3. Feodalların şəxsi mənfəətləri üçün birləşmələri ilə mübarizə aparması
4. Səfəvi dövlətinin Xəzər dənizində hərbi donanmaya sahib olması
5. Bağdadın monqollar tərəfindən tutulması
A) 1,4,5 B) 1,2,5 C) 3,4,5 D) 1,2,3 E) 2,3,4

91. – Onun başçılığı ilə Azərbaycan əsgərləri sol cinahdan hücuma keçərək, qısa müddətdə Talış yüksəkliyini ələ keçirmişdilər.

– O öz təşəbbüsü ilə Samux rayonundan Tərtərin döyüş bölgəsinə yardım apararkən düşmənin artilleriya atəşinə tuş gəlmiş, şəhid olmuşdu.

– 2016-cı il aprel döyüşlərindəki igidliklərinə görə "Azərbaycanın Milli Qəhrəmanı" fəxri adına layiq görülmüş hərbiçilərimizdən idi.

– Talış yüksəkliyinin alınmasında xüsusi fədakarlıq göstərmişdi.

Hansı şəxsiyyət haqqında məlumat verilməmişdir?

- A) Fərman Əsədli B) Murad Mirzəyev
C) Pəncəli Teymurov D) Şükür Həmidov
E) Mübariz İbrahimov

92. Uyğunluğun gözlənilməsi bəndi müəyyən edin.

1. 7-ci yüzillik 2. 12-ci yüzillik
3. 15-ci yüzillik 4. 16-cı yüzillik

A)	1,4	Azərbaycanın Arazdan cənubdakı bütün torpaqları yerli hökmdarların hakimiyyəti altında idi
B)	2,4	Şirvanşahlar dövləti yadelli hücumları nəticəsində asılı hala düşmüşdür
C)	3,4	Səfəvilər Azərbaycanda hakimiyyət uğrunda mübarizə aparırdılar
D)	1,3	Azərbaycan ərazisində yeni dövlətlər yarandı
E)	2,3	Bütün Azərbaycan torpaqları uzunmüddət vahid dövlətin tərkibində olmuşdur

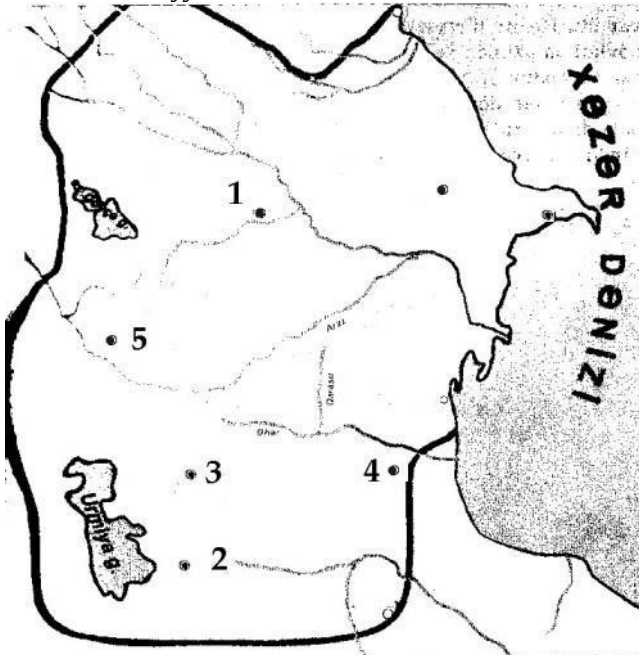
93. Uyğunluğu müəyyən edin.

Qarabağ xanlığı	
1. 18-ci yüzillikdə mərkəzinin Şahbulaq qalası olduğu dövr	2. 19-cu yüzillikdə mərkəzinin Şuşa qalası olduğu dövr
a. Azərbaycan sərkərdəsi Nadir xana yadellilərlə mübarizədə dəstək göstərilməsi	a. Azərbaycan torpaqlarının birləşdirilməsinin başa çatdırılması
b. Pənahəli xan tərəfindən idarə edilməsi	b. Kürəkçay müqaviləsinin bağlanması
c. xanlığın müdafiə sistemini möhkəmləndirmək üçün tədbirlər görülməsi	c. Gəncə xanlığı ilə həmsərhəd olması

- A) 1a; 2bc B) 1c; 2ab C) 1ac; 2a
D) 1bc; 2bc E) 1bc; 2ab

94. –Nəsirəddin Tusinin təşəbbüsü ilə böyük kitabxana açılmışdı

–Elxanilər dövlətinin ilk rəsədxanası inşa edilmişdi
Verilən ifadələrin aid olduğu Azərbaycan şəhərini xəritədə müəyyən edin



- A) 1 B) 2 C) 3 D) 4 E) 5

95. Uyğunluq pozulmuşdur:

- A) dünya azərbaycanlılarının hüquqlarının qorunmasına şərait yaradan amillərdəndir—ümummili lider Heydər Əliyevin uğurlu xarici siyasəti
B) dövlətimizin əsas vəzifələrindəndir—Azərbaycan Respublikasının sərhədlərinin qorunması
C) dövlətimizin təməl qanunudur—Azərbaycan Respublikasının Konstitusiyası
D) 20-ci əsrin 90-cı illərində yaranmışdı—Heydər Əliyev Fondu
E) 20-ci əsrin sonlarında işğala məruz qalan bölgələrimizdəndir—Goranboy ərazisi

96. Hadisələrdən neçəsi Azərbaycan Atabəylər, neçəsi Bayandurlu dövlətinin tarixinə aiddir?

- o əsası Kür-Araz çayları arasındakı torpaqlarda qoyulmuşdur
- o Naxçıvan və ətraf əraziləri də bu dövlətin tərkibində olmuşdur
- o ilk hökmdarı "sultan" titulu daşıyırdı
- o qızılbaşlarla mübarizədə məğlub olaraq süquta uğramışdır
- o Şirvanşahlar dövlətini asılı hala salmışdır

Atabəylər Bayandurlu

- A) 1-i 4-ü
B) 2-si 3-ü
C) 3-ü 3-ü
D) 3-ü 2-si
E) 4-ü 1-i

97. Xronoloji ardıcılığı müəyyən edin:

1. İslam dininin Azərbaycanda yayılmağa başlaması
2. Dərbənd şəhərinin Ərəb xilafəti qoşunları tərəfindən ilk dəfə tutulması
3. Şirvanşahlar dövlətinin yaranması
4. Afsinin ordusu ilə xürramilər arasında Bəzz uğrunda həlledici döyüşün baş verməsi

98. Uyğunluq gözlənilmişdir:

1. Təbrizdə Bayandurlu dövlətinin hakimiyyətinə son qoymuşdu—Baharlı dövləti
2. Dövləti ədalətli şəkildə idarə etmək üçün camaatı şəxsən qəbul edirdi—Həsən padşah
3. 16-cı əsrdə bütün Azərbaycan torpaqlarını hakimiyyəti altında birləşdirmişdi—Şah I İsmayıl
4. Çaldıran düzü sərhədləri daxilində idi—Səfəvilər dövlətinin
5. Əfşarlar dövlətində üsyanların səbəblərindəndir—məmur özbaşınalıqları

99. Yanlış ifadə və ya ifadələri müəyyən edin.

1. Qədim Manna dövlətinə aid maddi mənbələr dövrümüza qədər gəlib çıxmışdır.
2. Şuşa mağarası Azərbaycanın qədim yaşayış məskənlərindən biri olmuşdur
3. Alban kilsəsi Qarabağdakı ibadət evlərindəndir.
4. Azərbaycanın ən qədim dövlətinin paytaxtı Göyçə və Urmiya gölləri arasındakı ərazidə yerləşirdi
5. E.ə. birinci minillikdə işğalçılara qarşı uğurla mübarizə aparmaları İranu və Atropata aid ümumi cəhətdir

100. Heydər Əliyevin fəaliyyətlərinə aid uyğunluğu müəyyən edin

1. Azərbaycan Respublikası dövründə
2. Azərbaycan Sovet Respublikası dövründə

- a. Hüseyn Cavidin yüzillik yubileyi keçirilmişdir
- b. Azərbaycan KP MK-nın birinci katibi olaraq fəaliyyət göstərmişdir
- c. "Əsrin müqaviləsi" adlandırılan iqtisadi layihənin həyata keçirilməsi
- d. Neft ixracı ilə bağlı ən mürəkkəb vəzifələri öhdəsindən layiqincə gələ bildiyi üçün İlham Əliyevə tapşırırdı
- e. 20 Yanvar faciəsi Azərbaycan xalqına qarşı sovet rəhbərliyinin cinayəti kimi qiymətləndirilmişdir

TDV Bakı Türk Liseyinin 2001-2023-cü illər üzrə qəbul uğurları

